

Bonjour,

J'espère que tu vas bien ainsi que ta famille.

Je te donne les activités pour aujourd'hui.

Pour l'activité de grammaire ou de conjugaison, c'est Anaïg qui te la transmettra.

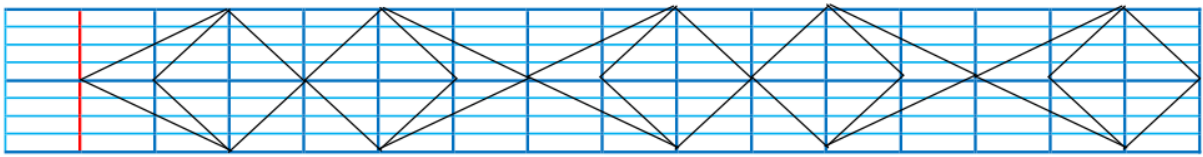
Pour aujourd'hui, au programme, géométrie, géographie, et anglais et bien sûr, lecture de bouquin.

Pour les corrections de la semaine passée, je les mettrai en ligne demain. Sache qu'un des exercices sur les angles (celui avec le papier calque) n'aurait pas dû apparaître sur le document, c'est une erreur de ma part. Nous reverrons cela ensemble en classe.

Pour cette semaine, je t'ai mis un document en pièce jointe de gabarit d'équerre. Cela peut certainement servir à certains d'entre vous...

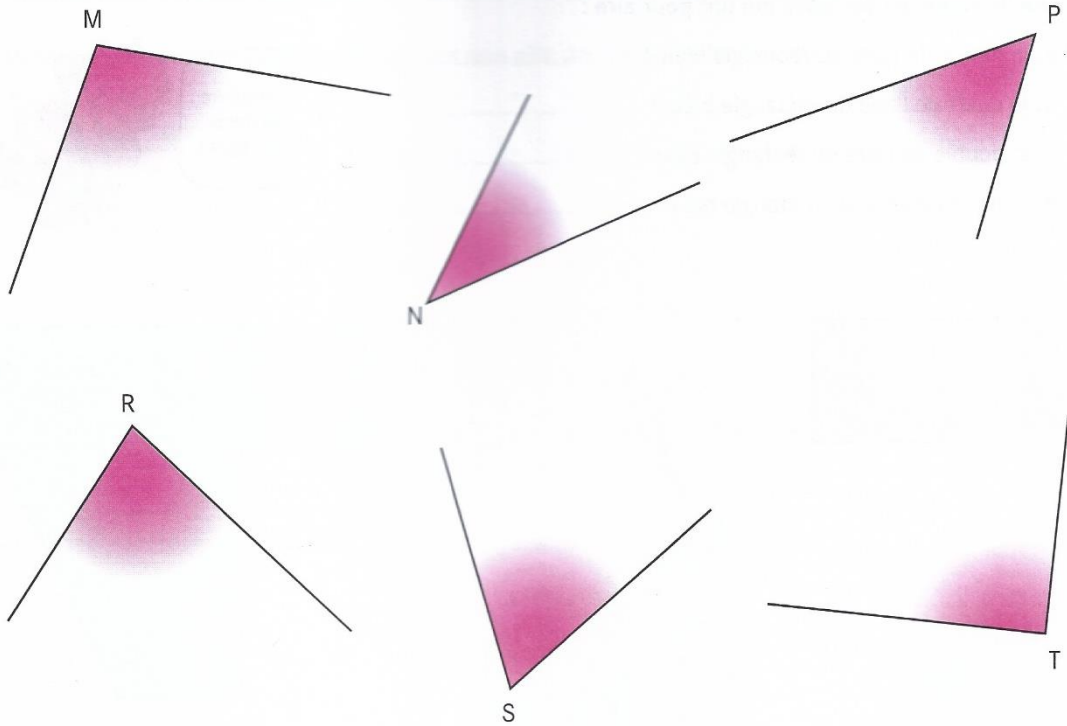
Bonne journée à toi.

Frise



COMPARER DES ANGLES

→ Pour les exercices 1 et 2, utilise les figures ci-dessous. Nomme les angles par leur sommet.



1 Quels sont les angles aigus ? Quels sont les angles obtus ?

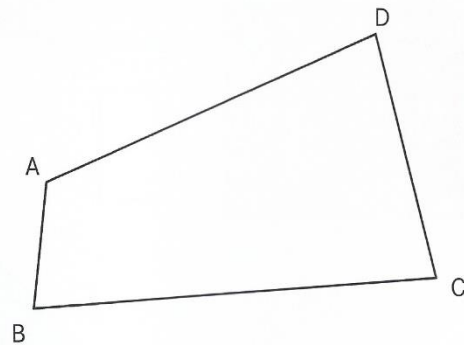
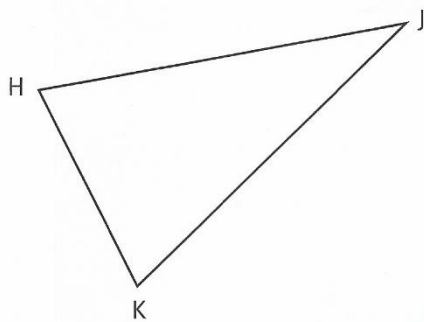
2 Range les angles du plus petit au plus grand. Utilise des morceaux de papier calque.

..... < < < < <

3 Quels angles sont égaux dans chaque polygone ? Écris les noms de leurs sommets. Utilise des morceaux de papier calque.

Triangle HKJ :

Quadrilatère ABCD :



Activité facultative pour les adeptes. TU peux aussi n'en faire qu'un ou deux. J'espère ne pas vous l'avoir déjà donné en entrainement à l'école.

