

Bonjour,

J'espère que tout le monde va bien.

Je te joins les activités complémentaires à celles qui t'ont été proposées pour aujourd'hui.

Dans l'étude des sons, tu peux visionner deux vidéos :

* point ien ce1

* la lettre i & inversion de sons

Tu termines par les exercices.

En géométrie, on découvre plus précisément une figure dans la famille des quadrilatères, des polygones à 4 côtés : le carré.

1. Relis le leçon que tu as collé dans ton cahier de leçon, celle intitulée (ça veut dire « dont le titre est ») Le carré et le rectangle.
2. Tu termines par les exercices, soit par la manipulation, soit par la fiche ou les deux activités mais dans tous les cas, prépare ton gabarit et ta règle, voire le mètre de bricolage si ta règle est trop courte et que tes parents ont du temps à t'accorder pour cette chasse aux carrés.

En anglais, tu as l'activité sur le temps qui t'a été donnée par Marisa.

Pour ceux qui souhaitent réviser la date, le temps qu'il fait et découvrir le carré en anglais, c'est par ici :

<https://www.youtube.com/watch?v=INY3ETimTjg> (à partir de 19minutes 15 secondes jusqu'à la fin)

A la fin de la vidéo une petite chanson célèbre anglophone. Tu peux juste profiter de la musique et faire les gestes

Amusez vous bien !

Bonne semaine !

Fanny

ain/ian ; ein/ien ; oin/ion

date :


1 Complète chaque série avec le mot qui convient.

- la peinture – il est teint – _____
- le chien – bien – _____
- moins – loin – _____
- un espion – une question – _____
- terrifiant – un étudiant – _____
- soudain – demain – _____

le soin
souriant
un frein
le musicien
africain
un champion

2 Écris le mot qui correspond à chaque dessin.

main lam tre ro pein dien poin in te pion



3 Entoure le mot exact.

le point le pion	> d'interrogation	le lion le loin	> du zoo	un fauteuil	< plaint pliant	
les pions les points	> du jeu de dames	C'est	< loin. lion.	Il se	< plaint. pliant.	
Le client Le chien	> jappe.	J'ai mal aux	< reins. rien.	Le chat	< craint criant	> l'eau.
le client le chien	> du magasin	Il n'y a	< reins. rien.	Il appelle son chat en	< craint. criant.	

4 Écris les mots dictés.

<p>oin [wɛ̃]</p>	<p>ion [jɔ̃]</p>	le poing	un lion
		le foin	un pion
le coin	un camion	le point	un avion
un recoin	la télévision	la pointe	la main
pointu	une addition	la peinture	un poulain
le soin	une soustraction	le pain	le pain
moindre	une action	le train	le train
un témoin	une information	ainsi	ainsi
le shampooing	une solution	certain	certain
C'est loin	attention	demain	demain
avoir besoin	la passion	le lendemain	le lendemain
rejoindre	une question	maintenant	maintenant
coincé	la réaction	prochain	prochain
Va moins vite !	une multiplication	il croit	il croit
le groin	une interrogation		
le goître	une exclamation		
moins	en suspension		

<p>ain [ɛ̃]</p>	<p>ian [iã]</p>	le pain	de la viande
		le train	en criant
la main	en pliant	un étudiant	un étudiant
un poulain	un fiancé	un étudiant	un étudiant
	une fiancée	un étudiant	un étudiant
	un mendiant	un étudiant	un étudiant
	une mendicante	un étudiant	un étudiant
	un triangle	un étudiant	un étudiant

<p>ein [ɛ̃]</p>	<p>ien [jɛ̃]</p>	une ceinture	le chien
		la peinture	un indien
un peintre	rien	le sien	le sien
peindre	le tien	le sien	le sien
les reins	bien	le tien	le tien
teindre	bientôt	le tien	le tien
plein	combien	le tien	le tien
il peint	je viens	le tien	le tien
une empreinte	un gardien	le tien	le tien
le frein	un musicien	le tien	le tien
de la teinture	un pharmacien	le tien	le tien
enceinte	un collégien	le tien	le tien
éteindre	un parisien	le tien	le tien
	un italien	le tien	le tien
	un algérien	le tien	le tien

Quiz n° 19 : demain, la viande, un camion, la main, un chien, plein, rien, un point, bientôt, le train.

92 Le carré (1)

Objectif : Décrire le carré.



Tu peux fabriquer des carrés avec toute sorte d'objets.

Il te faut 4 objets de même mesure, exactement de même longueur, et vérifier les angles droits avec ton gabarit. exemple : des couteaux, des feutres, des pailles... Ne prends pas tes crayons de couleur (ils n'ont pas exactement même mesure vu qu'ils ont été taillés).

Ou bien tu peux te lancer à la chasse aux carrés chez toi ! Tu te places, par exemple au milieu du salon, et tu en repères le plus possible ! Tu prends ton gabarit et ta règle ou un mètre de bricolage si ta règle est trop courte (demande à tes parents) et tu vérifies qu'à l'œil nu tu avais bien perçu les carrés.



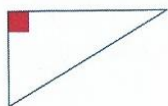
Carré = 4 côtés de même longueur = 4 angles droits

1 Lisa a tracé deux carrés. Complète sa phrase.



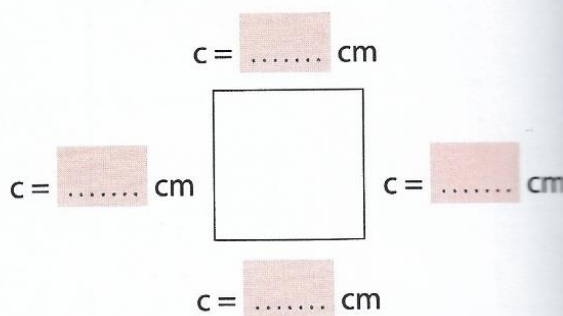
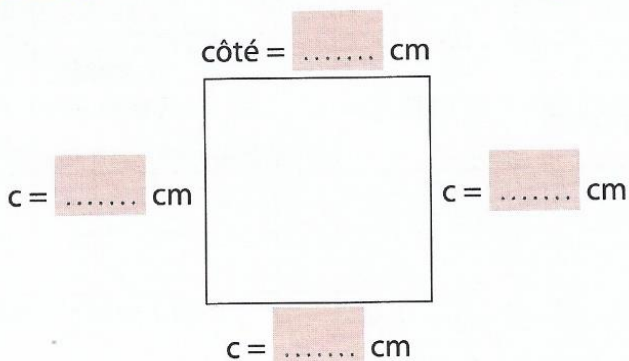
Un carré a côtés.

2 Compare chaque angle des carrés à l'angle droit de l'équerre. Complète la phrase.



Les angles d'un carré sont des

3 Les deux figures sont des carrés. Mesure les côtés en centimètres, puis complète la phrase.



Les côtés d'un carré

Calcul mental : Trouver le double ou la moitié d'un nombre donné. Ex. : Énoncer : « Quel est le double de 15 ? Quelle est la moitié de 50 ? etc. » Les élèves nomment ou écrivent le résultat.