


1 Combien de fraises contient cette barquette ?

___ x ___ = ___ + _____ = _____


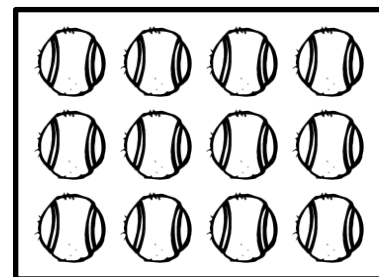
___ x ___ = ___ + _____ = _____




2 Combien de balles y a-t-il dans cette boîte ?


___ = _____ = _____


___ = _____ = _____



3 Anatole range ses petites voitures. Il fait 4 rangées de 7 voitures.
Combien de voitures a-t-il en tout ?








1 Combien de carreaux contenait cette tablette de chocolat avant d'être croquée par Mathix ?

2 Dans son potager, Monsieur Couvert a planté 3 rangées de 8 choux. Combien de choux a-t-il plantés en tout ?



3 Colorie toutes les étiquettes qui correspondent au nombre de boutons.

$$4 + 4 + 4 + 4 + 4 + 4 + 4$$


$$7 + 7$$

$$7 \times 4$$

28

$$4 \times 7$$

35



$$4 + 7 + 4 + 7 + 4 + 7 + 4$$

$$7 \times 7$$

$$4 + 7$$

$$7 + 7 + 7 + 7$$