


Mathématiques 29/05/20

1) Problèmes dictés2) problème

Dans la classe de Zoé, il y a 25 élèves.

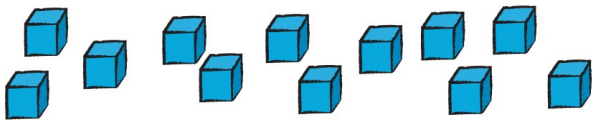
La maîtresse veut donner une gomme à chaque élève.

dessin

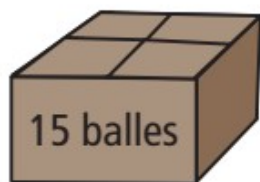
Chaque élève aura-t-il une gomme ? *oui non*Si *oui*, combien en restera-t-il ?Si *non*, combien en manquera-t-il ?

Apprentissage : valeur de chaque part

Tu dois répartir ces 12 cubes entre les 3 enfants. Explique à papa ou maman comment tu fais.



Chaque enfant aura cubes.



Arthur, Zoé et Gribouille ont reçu une boîte contenant 15 balles. Ils veulent se partager ces 15 balles. A la fin du partage, il faut qu'ils aient tous les trois le même nombre de balles. Tu dois trouver combien chacun en aura.

Tu peux dessiner les balles pour t'aider ou manipuler du matériel (cubes, pierres de

sucre...)

dessin :



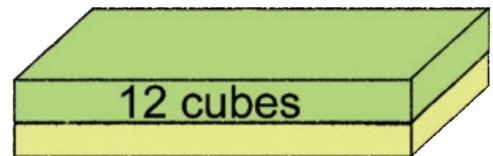
Entraînement

Tous ces cubes sont pour Arthur et Zoé.
Ils doivent en avoir le même nombre.
Combien de cubes chacun aura-t-il ?



Arthur aura cubes.
Zoé aura cubes.

Tous ces cubes sont pour Arthur et Zoé.
Ils doivent en avoir le même nombre.
Combien de cubes chacun aura-t-il ?



Arthur aura cubes.
Zoé aura cubes.

Tous ces gâteaux sont pour Arthur, Zoé
et Gribouille.
Ils doivent en avoir le même nombre.

Arthur aura gâteaux.
Zoé aura gâteaux.
Gribouille aura gâteaux.

