

Prénom : .....

Date : .....

Mathématiques 11/06/20

1) Je compte le plus loin possible à l'oral.

2) Ajout ou retrait de dizaines entières.

Si besoin, utilise tes barres de 10 et tes cubes.

a)  b)  c)  d)  e)  f)

3) Calcule les additions en colonnes :

43 + 26 =.....

15 + 53 = ....

62 + 34 = ....

	d	u			
	4	3			
	+ 2	6			
	<hr/>				
	.	.			



4) Complète les étiquettes pour qu'elles désignent toutes le nombre 64 :

64

..... - quatre

... dizaines et ... unités

10 + 10 + 10 + .....

5) Complète les étiquettes pour qu'elles désignent toutes le nombre 45 :

... unités et ... dizaines

quarante - .....

10 + 5 + 10 + .....

45

## Consignes et correction:

### exercice 2

a)  $34 + 20$

b)  $42 + 10$

c)  $33 + 30$

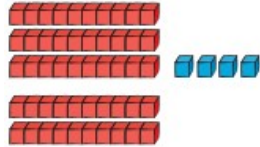
d)  $41 - 20$

e)  $57 - 30$

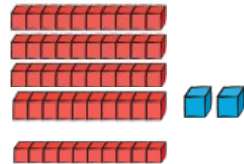
f)  $68 - 60$

### correction


- $34 + 20$  c'est 3 dizaines et 4 unités plus 2 dizaines, c'est donc 5 dizaines et 4 unités, c'est 54.




- $42 + 10$  c'est 4 dizaines et 2 unités plus 1 dizaine c'est donc 5 dizaines et 2 unités, c'est 52.



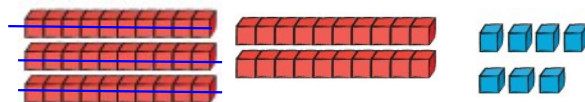
- $33 + 30$  c'est 3 dizaines et 3 unités plus 3 dizaines c'est donc 6 dizaines et 3 unités, c'est 63.



- $41 - 20$  c'est 4 dizaines et 1 unité moins 2 dizaines c'est donc 2 dizaines et 1 unité, c'est 21.



- $57 - 30$ , c'est 5 dizaines et 7 unités moins 3 dizaines c'est donc 2 dizaines et 7 unités, c'est 27.



- $68 - 60$  c'est 6 dizaines et 8 unités moins 6 dizaines c'est donc 0 dizaine et 8 unités, c'est 8.

