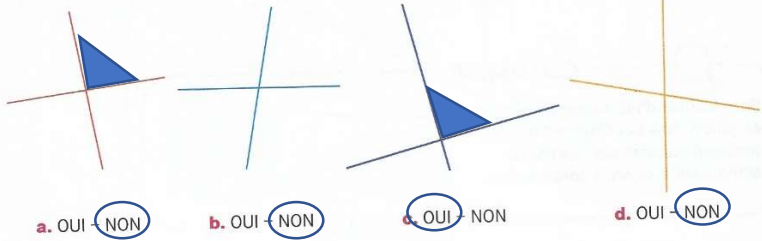
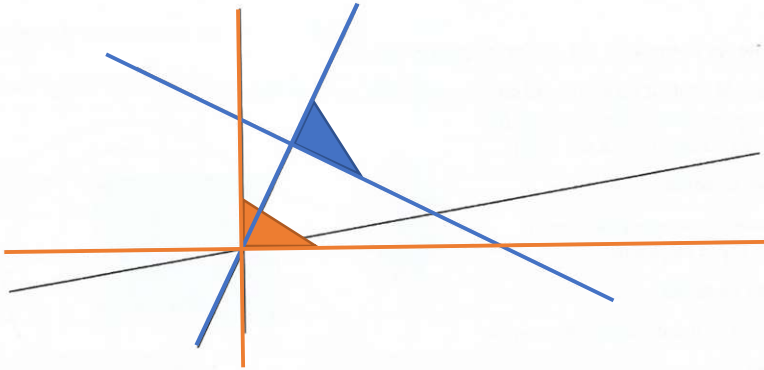


2 Pour chaque figure les deux droites sont-elles perpendiculaires ? Entoure la réponse.

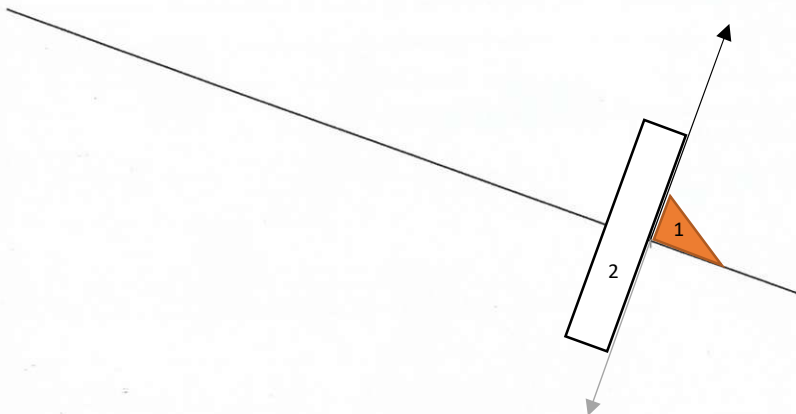


3 Repasse de la même couleur les droites qui sont perpendiculaires.



TRACER DES DROITES PERPENDICULAIRES

4 Trace la droite qui est perpendiculaire à la droite tracée. Elle doit passer par le point qui est marqué sur cette droite.



Droites perpendiculaires

DICO 65

Connaître les droites perpendiculaires

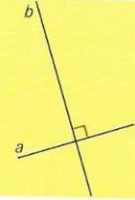
Deux droites sont perpendiculaires si elles se coupent en formant un angle droit.

Les quatre angles qu'elles forment sont tous des angles droits.

On dit : « Les droites a et b sont perpendiculaires »

ou : « La droite a est perpendiculaire à la droite b »

ou : « La droite b est perpendiculaire à la droite a ».



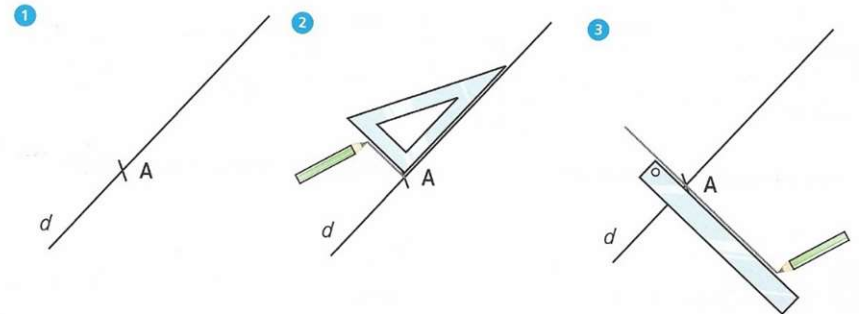
DICO 66

Tracer une droite perpendiculaire à une autre droite

Il faut une équerre et une règle.



■ Avec une équerre et une règle



■ Avec une réquerre

