


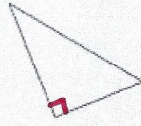
# Identifier la nature d'un triangle

## l'observe et je raisonne

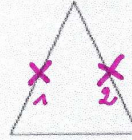
■ Un triangle est un polygone à trois côtés. Comment identifier sa nature ?



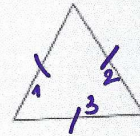
► Le triangle quelconque n'a aucune particularité.



► Le triangle rectangle a un angle droit.



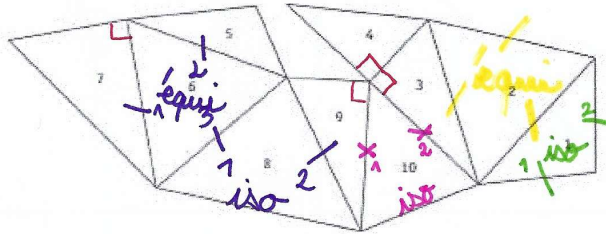
► Le triangle isocèle a 2 côtés égaux.



► Le triangle équilatéral a 3 côtés égaux.

## Je m'entraîne

1 \*\* Complète le tableau par des croix, puis complète les phrases.



quelconque  
rectangle  
isocèle  
équilatéral

	1	2	3	4	5	6	7	8	9	10
aucune particularité					X					
un angle droit			X	X			X		X	
2 côtés égaux	X							X		X
3 côtés égaux		X				X				

- Les triangles quelconques sont les triangles : 5
- Les triangles rectangles sont les triangles : 3 - 4 - 7 - 9
- Les triangles isocèles sont les triangles : 1 - 8 - 10
- Les triangles équilatéraux sont les triangles : 2 - 6