


OBJECTIF : résoudre des problèmes multiplicatifs relevant de l'addition répétée et du produit de mesures (disposition lignes / colonnes).

CALCUL MENTAL

Problème : compléter un nombre à la dizaine supérieure.
« Un jeu coute 30 €. J'ai 25 €. Combien me manque-t-il ? »

--	--	--	--	--	--

1 Sur son bureau, la maitresse a posé 3 boites de 6 crayons.
* Quel est le nombre total de crayons ?



.....

.....

.....

2 Pour son anniversaire, Naïma a apporté 2 paquets de 12 chocolats chacun.
* Combien de chocolats a-t-elle apportés ?



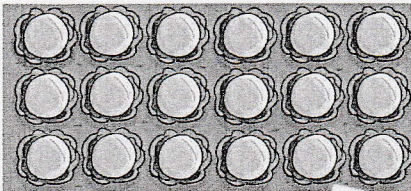
.....

.....


.....

3 Calcule le nombre de plants de chaque légume.


*



choux



salades



carottes

..... × =

..... × =

..... × =

Il y a choux.


Il y a salades.

Il y a carottes.



4 Fabienne a posé des carreaux dans sa cuisine. Combien de carreaux a-t-elle posés ?

*
*



carreaux jaunes : $10 \times 5 = \dots\dots\dots$

carreaux verts : × =

en tout :

Fabienne a posé carreaux.