

**CALCUL MENTAL**

Dire un produit des tables de 2 ou de 5.  
Écrire le résultat.

.....	.....	.....	.....	.....	.....	.....	.....
-------	-------	-------	-------	-------	-------	-------	-------

**1** Lucie a 62 billes. Elle veut donner 38 billes à son frère. Combien de billes lui restera-t-il ?

**• Explique** la méthode de calcul de Lucie.



**• Effectue** la soustraction.

d	u
5	2
<del>6</del>	12
-	38
<hr/>	
2	4

2 u - 8 u impossible !  
Je prends 1 dizaine de 6 dizaines.  
Je la transforme en 10 unités.  
12 u - 8 u = 4 u  
5 d - 3 d = 2 d

d	u
8	2
<del>9</del>	12
-	56
<hr/>	
3	6

Il faut ouvrir une boîte de 10.




**2** Effectue les soustractions.

* 45	13	87
- 29	- 64	
<hr/>		
24	23	
89	12	67
- 48	- 39	- 11
<hr/>		
44	32	

**3** Pose et effectue les soustractions.

* 91 - 58	* 83 - 46	582 - 368
<hr/>	<hr/>	<hr/>
33	37	214

**4 Problème** Chirine avait 195 planchettes de bois. Elle a fait une tour et elle a utilisé 128 planchettes. Combien de planchettes lui reste-t-il ?



195 - 128 = 67  
Il lui reste 67 planchettes.

195	
- 128	
<hr/>	
67	